

No.

力の分解

年 組 番 氏名 _____

/10

(1) 1つの力と同じはたらきをする2つの力に分けることを何というか。

(1)

(1) 力の分解

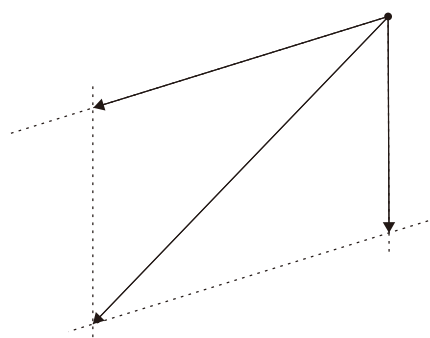
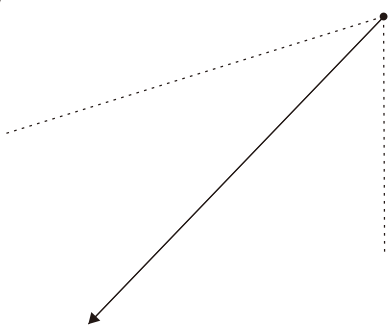
(2) (1) のようにしてできた力を何というか。

(2)

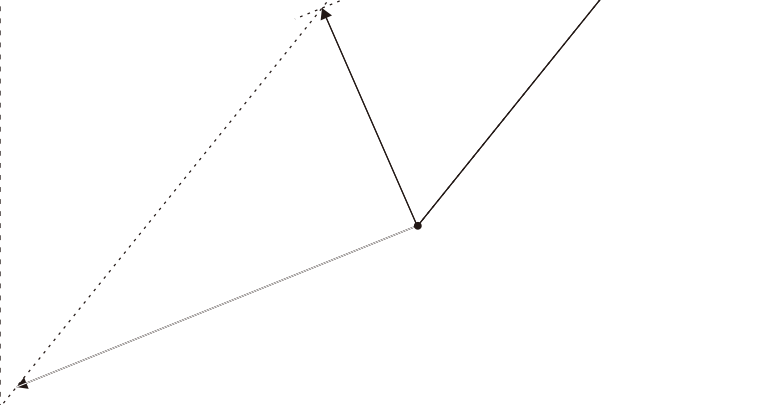
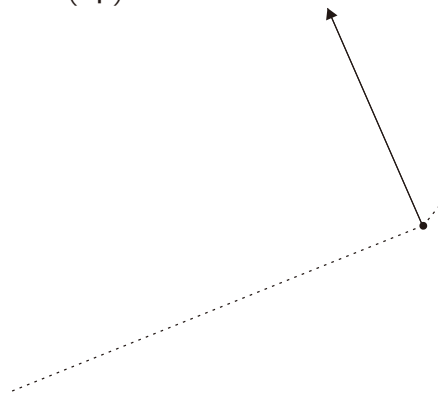
(2) 分力

点線上の分力を三角定規を用いて求めなさい。

(3)



(4)



(5)

